


**«УТВЕРЖДАЮ»**  
Руководитель  
ФГБНУ «Федеральный институт  
педагогических измерений»



**«СОГЛАСОВАНО»**  
Председатель  
Научно-методического совета  
ФГБНУ «ФИПИ» по математике

О.А. Решетникова  
«10» ноября 2014 г.

А.Л. Семенов  
«10» ноября 2014 г.

Единый государственный экзамен по МАТЕМАТИКЕ

**Демонстрационный вариант**  
контрольных измерительных материалов  
единого государственного экзамена 2015 года  
по математике

**Базовый уровень**

Подготовлен Федеральным государственным бюджетным  
научным учреждением

«ФЕДЕРАЛЬНЫЙ ИНСТИТУТ ПЕДАГОГИЧЕСКИХ ИЗМЕРЕНИЙ»

**Пояснения к демонстрационному варианту  
контрольных измерительных материалов для ЕГЭ 2015 года  
по МАТЕМАТИКЕ**

Демонстрационный вариант предназначен для того, чтобы дать представление о структуре будущих контрольных измерительных материалов, количестве заданий, их форме и уровне сложности.

**В демонстрационном варианте представлено по несколько примеров заданий на каждую позицию экзаменационной работы. В реальных вариантах экзаменационной работы на каждую позицию будет предложено только одно задание.**

Задания демонстрационного варианта не отражают всех вопросов содержания, которые могут быть включены в контрольные измерительные материалы в 2015 году.

**Демонстрационный вариант  
контрольных измерительных материалов  
для проведения в 2015 году единого государственного экзамена  
по МАТЕМАТИКЕ**

**Базовый уровень**

**Инструкция по выполнению работы**

Экзаменационная работа включает в себя 20 заданий.

На выполнение работы отводится 3 часа (180 минут).

Ответы к заданиям записываются по приведённым ниже образцам в виде числа или последовательности цифр. Запишите ответы к заданиям в поле ответа в тексте работы, а затем перенесите в бланк ответов № 1 справа от номера соответствующего задания. Если ответом является последовательность цифр, то запишите эту последовательность в бланк ответов № 1 без пробелов, запятых и других дополнительных символов.

КИМ

Ответ: -0,6.

5	-	0	,	6															
---	---	---	---	---	--	--	--	--	--	--	--	--	--	--	--	--	--	--	--

Бланк

Ответ:

А	Б	В	Г
4	3	1	2

9	4	3	1	2															
---	---	---	---	---	--	--	--	--	--	--	--	--	--	--	--	--	--	--	--

Все бланки ЕГЭ заполняются яркими чёрными чернилами. Допускается использование гелевой, капиллярной или перьевой ручек.

При выполнении заданий можно пользоваться черновиком. Записи в черновике не учитываются при оценивании работы.

Баллы, полученные Вами за выполненные задания, суммируются. Постарайтесь выполнить как можно больше заданий и набрать наибольшее количество баллов.

**Желаем успеха!**

**Ответом к каждому заданию является конечная десятичная дробь, целое число или последовательность цифр. Запишите ответы к заданиям в поле ответа в тексте работы, а затем перенесите в бланк ответов № 1 справа от номера соответствующего задания. Если ответом является последовательность цифр, то запишите эту последовательность в бланк ответов № 1 без пробелов, запятых и других дополнительных символов. Каждую цифру, знак «минус» и запятую пишите в отдельной клеточке в соответствии с приведёнными в бланке образцами. Единицы измерений писать не нужно.**

**1** Найдите значение выражения  $\frac{2}{5} + \frac{1}{4} + 2$ .

Ответ: \_\_\_\_\_.

**ИЛИ**

Найдите значение выражения  $\left(\frac{1}{3} + \frac{1}{5}\right) \cdot 6$ .

Ответ: \_\_\_\_\_.

**2** Найдите значение выражения  $\frac{0,24 \cdot 10^6}{0,6 \cdot 10^4}$ .

Ответ: \_\_\_\_\_.

**ИЛИ**

Найдите значение выражения  $\frac{2^6 \cdot 3^8}{6^5}$ .

Ответ: \_\_\_\_\_.

**3** Налог на доходы в России составляет 13% от заработной платы. Заработная плата Ивана Кузьмича равна 20 000 рублей. Сколько рублей он получит после уплаты налога на доходы?

Ответ: \_\_\_\_\_.

**ИЛИ**

ЕГЭ по физике сдавали 25 выпускников школы, что составляет треть от общего количества выпускников. Сколько выпускников этой школы **не сдавали** экзамен по физике?

Ответ: \_\_\_\_\_.

4 Найдите  $m$  из равенства  $F = ma$ , если  $F = 84$  и  $a = 12$ .

Ответ: \_\_\_\_\_.

**ИЛИ**

Найдите  $v_0$  из равенства  $v = v_0 + at$ , если  $v = 20$ ,  $t = 2$  и  $a = 7$ .

Ответ: \_\_\_\_\_.

**ИЛИ**

Найдите  $S$  из равенства  $S = v_0 \cdot t + \frac{at^2}{2}$ , если  $v_0 = 6$ ,  $t = 2$ ,  $a = -2$ .

Ответ: \_\_\_\_\_.

5 Найдите  $\cos \alpha$ , если  $\sin \alpha = 0,8$  и  $90^\circ < \alpha < 180^\circ$ .

Ответ: \_\_\_\_\_.

**ИЛИ**

Найдите значение выражения  $(2\sqrt{13} - 1)(2\sqrt{13} + 1)$ .

Ответ: \_\_\_\_\_.

**ИЛИ**

Найдите значение выражения  $5^{\log_5 6 + 1}$ .

Ответ: \_\_\_\_\_.

6 Баночка йогурта стоит 14 рублей 60 копеек. Какое наибольшее количество баночек йогурта можно купить на 100 рублей?

Ответ: \_\_\_\_\_.

**ИЛИ**

Килограмм моркови стоит 40 рублей. Олег купил 2 килограмма моркови. Сколько рублей сдачи он должен получить со 100 рублей?

Ответ: \_\_\_\_\_.

**ИЛИ**

Для ремонта требуется 63 рулона обоев. Какое минимальное количество пачек обойного клея нужно купить для такого ремонта, если 1 пачка клея рассчитана на 6 рулонов?

Ответ: \_\_\_\_\_.

7 Найдите корень уравнения  $3^{x-3} = 81$ .

Ответ: \_\_\_\_\_.

**ИЛИ**

Найдите корень уравнения  $\log_2(x-3) = 6$ .

Ответ: \_\_\_\_\_.

**ИЛИ**

Найдите отрицательный корень уравнения  $x^2 - x - 6 = 0$ .

Ответ: \_\_\_\_\_.

8 Участок земли для строительства санатория имеет форму прямоугольника, стороны которого равны 900 м и 400 м. Одна из больших сторон участка идёт вдоль моря, а три остальные стороны нужно отгородить забором. Найдите длину этого забора. Ответ дайте в метрах.

Ответ: \_\_\_\_\_.


**ИЛИ**

Какой угол (в градусах) образуют минутная и часовая стрелки в 16:00?

Ответ: \_\_\_\_\_.

**ИЛИ**

План местности разбит на клетки. Каждая клетка обозначает квадрат  $1 \text{ м} \times 1 \text{ м}$ . Найдите площадь участка, изображённого на плане. Ответ дайте в квадратных метрах.



Ответ: \_\_\_\_\_.

9

Установите соответствие между величинами и их возможными значениями: к каждому элементу первого столбца подберите соответствующий элемент из второго столбца.

## ВЕЛИЧИНЫ

- А) рост ребёнка  
Б) толщина листа бумаги  
В) длина автобусного маршрута  
Г) высота жилого дома

## ВОЗМОЖНЫЕ ЗНАЧЕНИЯ

- 1) 32 км  
2) 30 м  
3) 0,2 мм  
4) 110 см

В таблице под каждой буквой, соответствующей величине, укажите номер её возможного значения.

Ответ:

А	Б	В	Г

**ИЛИ**

Установите соответствие между величинами и их возможными значениями: к каждому элементу первого столбца подберите соответствующий элемент из второго столбца.

## ВЕЛИЧИНЫ

- А) масса взрослого человека  
Б) масса грузового автомобиля  
В) масса книги  
Г) масса пуговицы

## ВОЗМОЖНЫЕ ЗНАЧЕНИЯ

- 1) 8 т  
2) 5 г  
3) 65 кг  
4) 300 г

В таблице под каждой буквой, соответствующей величине, укажите номер её возможного значения.

Ответ:

А	Б	В	Г

10

В чемпионате по прыжкам в воду участвуют 35 спортсменов: 7 из России, 12 из Китая, 9 из Японии и 7 из США. Порядок, в котором выступают спортсмены, определяется жребием. Найдите вероятность того, что спортсмен, выступающий первым, окажется из России.

Ответ: \_\_\_\_\_.

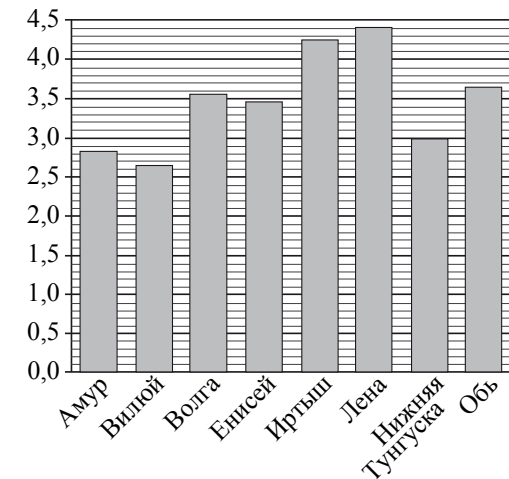
**ИЛИ**

Из каждых 100 лампочек, поступающих в продажу, в среднем 3 неисправны. Какова вероятность того, что случайно выбранная в магазине лампочка окажется исправной?

Ответ: \_\_\_\_\_.

11

На диаграмме приведены данные о длине восьми крупнейших рек России (в тысячах километров). Первое место по длине занимает Лена. На каком месте по длине, согласно этим данным, находится Амур?



Ответ: \_\_\_\_\_.

**ИЛИ**

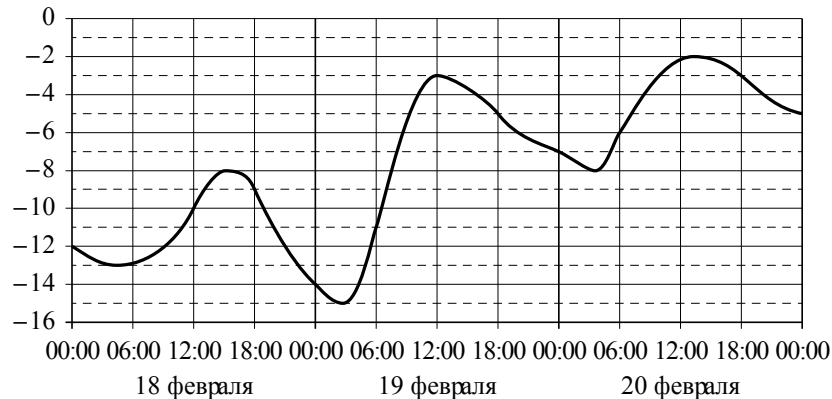
В таблице показано распределение медалей на Зимних Олимпийских играх в Сочи среди команд, занявших первые 10 мест по количеству золотых медалей. Определите с помощью таблицы, сколько серебряных медалей у команды, занявшей второе место по числу золотых медалей?

Места	Команды	Медали			Всего
		Золотые	Серебряные	Бронзовые	
1	Россия	13	11	9	33
2	Норвегия	11	5	10	26
3	Канада	10	10	5	25
4	США	9	7	12	28
5	Нидерланды	8	7	9	24
6	Германия	8	6	5	19
7	Швейцария	6	3	2	11
8	Белоруссия	5	0	1	6
9	Австрия	4	8	5	17
10	Франция	4	4	7	15

Ответ: \_\_\_\_\_.

**ИЛИ**

На графике показано изменение температуры воздуха на протяжении трёх суток. На горизонтальной оси отмечается число, месяц, время суток в часах, на вертикальной оси — значение температуры в градусах Цельсия. Определите по графику наибольшую температуру воздуха 19 февраля. Ответ дайте в градусах Цельсия.



Ответ: \_\_\_\_\_.

**12**

Для обслуживания международного семинара необходимо собрать группу переводчиков. Сведения о кандидатах представлены в таблице.

Номер переводчика	Языки	Стоимость услуг (руб. в день)
1	Немецкий, испанский	7000
2	Английский, немецкий	6000
3	Английский	3000
4	Английский, французский	6000
5	Французский	2000
6	Испанский	4000

Пользуясь таблицей, соберите хотя бы одну группу, в которой переводчики вместе владеют четырьмя иностранными языками: английским, немецким, французским и испанским, а суммарная стоимость их услуг не превышает 12 000 рублей в день.

В ответе укажите ровно один набор номеров переводчиков без пробелов, запятых и других дополнительных символов.

Ответ: \_\_\_\_\_.

**ИЛИ**

Турист подбирает себе экскурсии. Сведения об экскурсиях представлены в таблице.

Номер экскурсии	Посещаемые объекты	Стоимость (руб.)
1	Крепость, загородный дворец	350
2	Музей живописи	100
3	Парк	150
4	Парк, музей живописи	300
5	Парк, крепость	300
6	Загородный дворец	200

Пользуясь таблицей, подберите экскурсии так, чтобы турист посетил четыре объекта: крепость, загородный дворец, парк и музей живописи, а суммарная стоимость экскурсий не превышала бы 600 рублей.

В ответе укажите ровно один набор номеров экскурсий без пробелов, запятых и других дополнительных символов.

Ответ: \_\_\_\_\_.

**ИЛИ**

Строительная фирма планирует купить  $70 \text{ м}^3$  пеноблоков у одного из трёх поставщиков. Цены и условия доставки приведены в таблице.

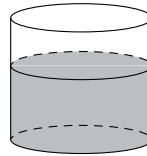
Поставщик	Стоимость пеноблоков (руб. за $1 \text{ м}^3$ )	Стоимость доставки (руб.)	Дополнительные условия
А	2600	10 000	Нет
Б	2800	8000	При заказе товара на сумму свыше 150 000 рублей доставка бесплатная
В	2700	8000	При заказе товара на сумму свыше 200 000 рублей доставка бесплатная

Сколько рублей нужно заплатить за самую дешёвую покупку с доставкой?

Ответ: \_\_\_\_\_.

13

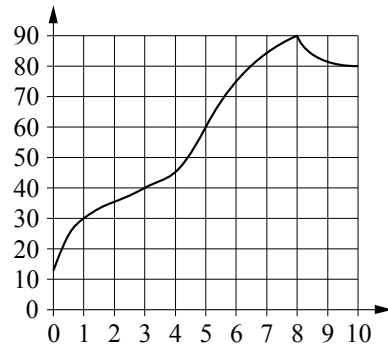
В сосуд цилиндрической формы налили воду до уровня 80 см. Какого уровня достигнет вода, если её перелить в другой цилиндрический сосуд, у которого радиус основания в 4 раза больше, чем у первого? Ответ дайте в сантиметрах.



Ответ: \_\_\_\_\_.

14

На графике показано изменение температуры в процессе разогрева двигателя легкового автомобиля. На горизонтальной оси отмечено время в минутах, прошедшее с момента запуска двигателя, на вертикальной оси — температура двигателя в градусах Цельсия.



Пользуясь графиком, поставьте в соответствие каждому интервалу времени характеристику процесса разогрева двигателя на этом интервале.

ИНТЕРВАЛЫ ВРЕМЕНИ

ХАРАКТЕРИСТИКИ ПРОЦЕССА

- |              |                                      |
|--------------|--------------------------------------|
| А) 0–2 мин.  | 1) температура росла медленнее всего |
| Б) 2–4 мин.  | 2) температура падала                |
| В) 4–6 мин.  | 3) температура росла быстрее всего   |
| Г) 8–10 мин. | 4) температура не превышала 40°C     |

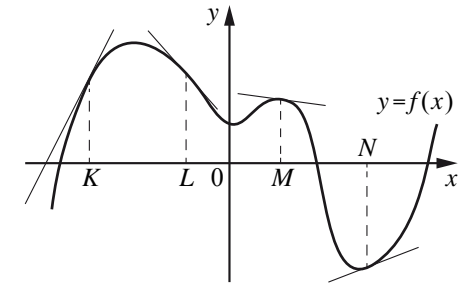
В таблице под каждой буквой, соответствующей интервалу времени, укажите номер характеристики процесса.

Ответ:

А	Б	В	Г

**ИЛИ**

На рисунке изображён график функции  $y = f(x)$ , к которому проведены касательные в четырёх точках.



Ниже указаны значения производной в данных точках. Пользуясь графиком, поставьте в соответствие каждой точке значение производной в ней.

ТОЧКИ                      ЗНАЧЕНИЯ ПРОИЗВОДНОЙ

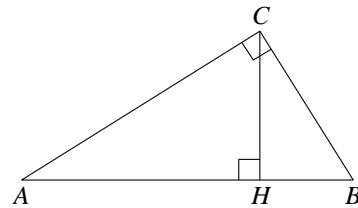
- |   |                     |
|---|---------------------|
| K | 1) $-\frac{2}{15}$  |
| L | 2) 2                |
| M | 3) $\frac{5}{13}$   |
| N | 4) $-1\frac{2}{15}$ |

В таблице под каждой буквой укажите соответствующий номер.

Ответ:

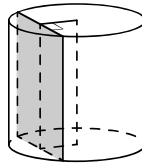
K	L	M	N

**15** В треугольнике  $ABC$  угол  $ACB$  равен  $90^\circ$ ,  $\cos A = 0,8$ ,  $AC = 4$ . Отрезок  $CH$  — высота треугольника  $ABC$  (см. рис.). Найдите длину отрезка  $AH$ .



Ответ: \_\_\_\_\_.

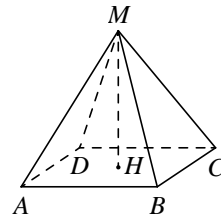
**16** Радиус основания цилиндра равен 13, а его образующая равна 18. Сечение, параллельное оси цилиндра, удалено от неё на расстояние, равное 12. Найдите площадь этого сечения.



Ответ: \_\_\_\_\_.

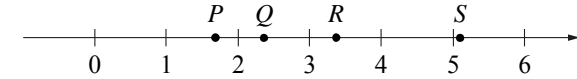
**ИЛИ**

Найдите объём правильной четырёхугольной пирамиды, сторона основания которой равна 4, а боковое ребро равно  $\sqrt{17}$ .



Ответ: \_\_\_\_\_.

**17** На прямой отмечены точки  $P, Q, R$  и  $S$ .



Установите соответствие между указанными точками и числами из правого столбца, которые им соответствуют.

ТОЧКИ

$P$

$Q$

$R$

$S$

ЧИСЛА

1)  $\log_2 10$

2)  $\frac{7}{3}$

3)  $\sqrt{26}$

4)  $0,6^{-1}$

Ответ:

$P$	$Q$	$R$	$S$

**ИЛИ**

Каждому из четырёх неравенств слева соответствует одно из решений, изображённых на координатной прямой справа.

Установите соответствие между неравенствами и их решениями.

НЕРАВЕНСТВА

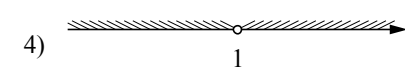
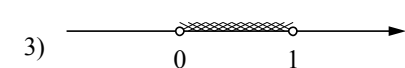
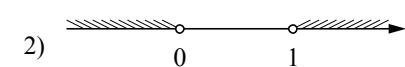
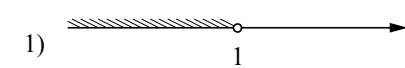
А)  $x(1-x) > 0$

Б)  $1-x > 0$

В)  $(1-x)^2 > 0$

Г)  $x(1-x) < 0$

РЕШЕНИЯ



В таблице под каждой буквой укажите соответствующий номер.

Ответ:

$A$	$B$	$B$	$\Gamma$

- 18** В городе Z в 2013 году мальчиков родилось больше, чем девочек. Мальчиков чаще всего называли Андрей, а девочек — Мария. Выберите утверждения, которые следуют из приведённых данных.

Среди рождённых в 2013 году в городе Z:

- 1) девочек с именем Мария больше, чем с именем Светлана.
- 2) мальчиков с именем Николай больше, чем с именем Аристарх.
- 3) хотя бы одного из родившихся мальчиков назвали Андреем.
- 4) мальчиков с именем Андрей больше, чем девочек с именем Мария.

В ответе укажите номера выбранных утверждений без пробелов, запятых и других дополнительных символов.

Ответ: \_\_\_\_\_.

**ИЛИ**

Известно, что Витя выше Коли, Маша выше Ани, а Саша ниже и Коли, и Маши. Выберите утверждения, которые следуют из приведённых данных.

- 1) Витя выше Саши.
- 2) Саша ниже Ани.
- 3) Коля и Маша одного роста.
- 4) Витя самый высокий из всех.

В ответе укажите номера выбранных утверждений без пробелов, запятых и других дополнительных символов.

Ответ: \_\_\_\_\_.

- 19** Приведите пример трёхзначного числа, сумма цифр которого равна 20, а сумма квадратов цифр делится на 3, но не делится на 9.

Ответ: \_\_\_\_\_.

- 20** Улитка за день заползает вверх по дереву на 3 м, а за ночь спускается на 2 м. Высота дерева 10 м. Через сколько дней улитка впервые окажется на вершине дерева?

Ответ: \_\_\_\_\_.

**ИЛИ**

На кольцевой дороге расположены четыре бензоколонки: А, В, С и D. Расстояние между А и В — 35 км, между А и С — 20 км, между С и D — 20 км, между D и А — 30 км (все расстояния измеряются вдоль кольцевой дороги в кратчайшую сторону). Найдите расстояние между В и С. Ответ дайте в километрах.

Ответ: \_\_\_\_\_.

### Система оценивания

#### Ответы к заданиям 1–20

№ задания	Пример 1	Пример 2	Пример 3
1	2,65	3,2	
2	40	54	
3	17400	50	
4	7	6	8
5	-0,6	51	30
6	6	20	11
7	7	67	-2
8	1700	120	8
9	4312	3142	
10	0,2	0,97	
11	7	5	-3
12	135; 153; 315; 351; 513; 531; 256; 265; 526; 562; 625; 652	123; 132; 213; 231; 312; 321; 256; 265; 526; 562; 625; 652	192000
13	5		
14	4132	2413	
15	3,2		
16	180	16	
17	4213	3142	
18	13; 31	1	
19	578; 587; 758; 785; 857; 875		
20	8	15	